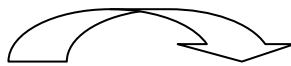


Tu peux imprimer les exercices et les faire sur la fiche, ou les recopier sur ton cahier de brouillon.

N'oublie pas de mettre la date et le numéro de l'exercice !

1- Compte de 2 en 2 de 179 à 223

2- Ajoute 9 à ces nombres




436	+ 9
716	
623	
492	
941	

3- Pose et calcule


$942-300=$



$751-335=$



$814-625=$




$867-359=$



$772-254=$



$537-268=$



4- Ecris l'heure sous les horloges



5- Résous le problème. Tu peux faire un schéma

Anais a ramassé 60 coquillages. Son frère en a ramassé 75.

Combien manque-t-il des coquillages à Anaïs pour en avoir autant que son frère ?

Opération :

Réponse :

6- Qui suis-je ? Entoure le bon nombre

244	Je suis entre 225 et 242. Mon chiffre des dizaines est le même que celui des unités.	Je suis plus grand que 172. Si on m'ajoute 10, je change de centaine.	185
226			170
233			194