

Première partie : Calcul mental

5 Les petites soustractions. Calcule :



$14 - 3 = \dots$

$14 - 3 = \dots$

$16 - 2 = \dots$

$17 - 2 = \dots$

$17 - 4 = \dots$

$18 - 8 = \dots$

$6 - 4 = \dots$

$14 - 4 = \dots$

$12 - 5 = \dots$



6 Les petites soustractions. Calcule :



$19 - 3 = \dots$

$14 - 6 = \dots$

$13 - 5 = \dots$

$14 - 3 = \dots$

$19 - 2 = \dots$

$8 - 6 = \dots$

$18 - 5 = \dots$

$9 - 5 = \dots$

$16 - 5 = \dots$



7 Les petites opérations. Calcule :



$14 + 5 = \dots$

$19 - 6 = \dots$

$14 - 6 = \dots$

$12 + 6 = \dots$

$13 + 2 = \dots$

$15 + 5 = \dots$

$15 - 5 = \dots$

$13 - 5 = \dots$

$18 - 5 = \dots$



8 Les petites opérations. Calcule :



$14 + \dots = 15$

$14 - \dots = 10$

$19 - \dots = 14$

$15 - \dots = 13$

$16 + \dots = 20$

$17 + \dots = 20$

$12 + \dots = 14$

$18 - \dots = 17$

$28 - \dots = 26$



Deuxième partie : Opérations

Voici quelques additions à poser. Pour t'aider, tu peux regarder ces petites vidéos avant de commencer :


















<https://huit.re/CE1Lecon4a>



<https://huit.re/CE1Lecon4b>

En plus, voici le gabarit pour bien placer les chiffres dans la bonne colonne :

			
			
+			
+			
			

POSE ET EFFECTUE LES OPERATIONS SUIVANTES

$25 + 45$	$36 + 87$	$84 + 69$	$14 + 89$
-----------	-----------	-----------	-----------

$258 + 624$	$456 + 274$	$751 + 249$	$74 + 589$
-------------	-------------	-------------	------------

$25 + 147 + 5$	$78 + 560 + 3$	$9 + 58 + 378$	$537 + 235 + 4$
----------------	----------------	----------------	-----------------

Troisième partie : Géométrie

1

Repérage sur quadrillage : Écris les coordonnées de chaque forme.



	1	2	3	4
A		☆		○
B	♥			
C			☾	

☆	
○	
♥	
☾	

2

Repérage sur quadrillage : Dessine les formes à leur place.



	1	2	3	4
A				
B				
C				

☆	(B ; 1)
○	(A ; 4)
♥	(C ; 2)
☾	(C ; 4)